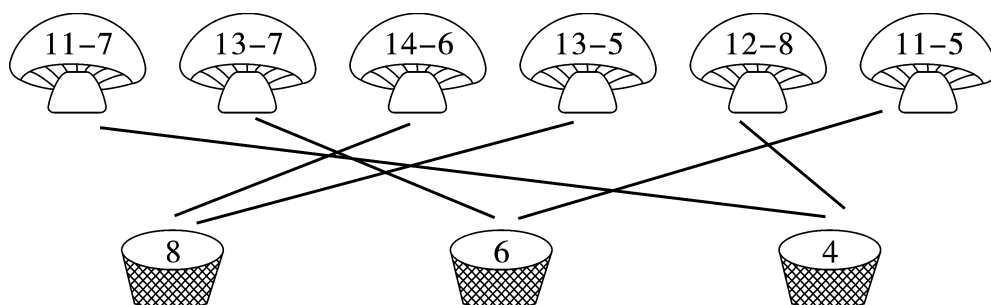


第一单元素质测评试卷

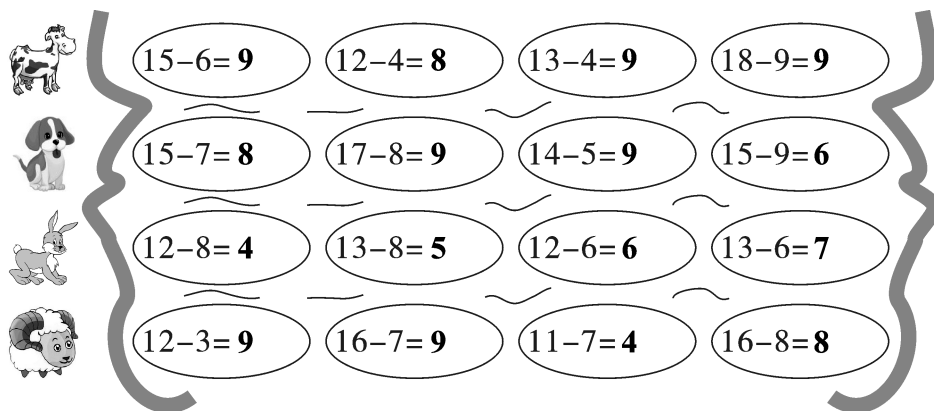
(总分:100分 时间:60分钟)

题号	一	二	三	四	五	六	七	八	附加题	总分
得分										

一、采蘑菇。(连一连)(6分)



二、看谁先过河。(8分)



三、花落谁家我做主。(8分)



$11-9 < 5$

$11-7 > 3$

$14-6 > 7$

$13-7 = 15-9$

$15-9 > 4$

$12-6 = 6$

$13-8 > 4$

$18-9 < 17-6$

四、在 里填上合适的数。(6分)


$$\begin{array}{l} 2 + \boxed{9} = 11 \\ \boxed{16} - 7 = 9 \end{array}$$

$$\begin{array}{l} 17 - \boxed{6} = 11 \\ 15 - \boxed{8} = 7 \end{array}$$

$$\begin{array}{l} 12 - 4 = 13 - \boxed{5} \\ \boxed{13} - 7 = 15 - 9 \end{array}$$

五、小动物排队。(10分)


1. 按得数从小到大排排队。(5分)



$$\boxed{14} - 5$$



$$\boxed{13} - 7$$



$$\boxed{18} - 7$$



$$\boxed{16} - 6$$



$$\boxed{16} - 8$$

$$\boxed{13} - 7 < \boxed{16} - 8 < \boxed{14} - 5 < \boxed{16} - 6 < \boxed{18} - 7$$

2. 按得数从大到小排排队。(5分)



$$\boxed{16} - 9$$



$$\boxed{18} - 7$$



$$\boxed{11} - 3$$



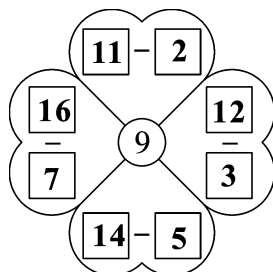
$$\boxed{14} - 9$$



$$\boxed{16} - 7$$

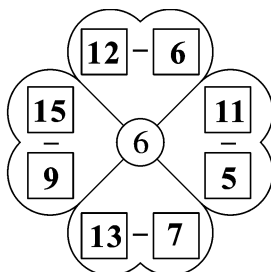
$$\boxed{18} - 7 > \boxed{16} - 7 > \boxed{11} - 3 > \boxed{16} - 9 > \boxed{14} - 9$$

六、花儿朵朵开。(看得数,写算式)(12分)



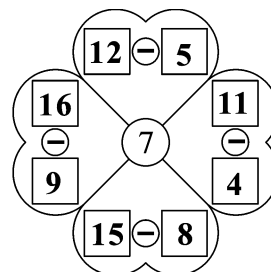
Center: 9

- Top: $\boxed{11} - \boxed{2}$
- Right: $\boxed{12} - \boxed{3}$
- Bottom: $\boxed{14} - \boxed{5}$
- Left: $\boxed{16} - \boxed{7}$



Center: 6

- Top: $\boxed{12} - \boxed{6}$
- Right: $\boxed{11} - \boxed{5}$
- Bottom: $\boxed{13} - \boxed{7}$
- Left: $\boxed{15} - \boxed{9}$




Center: 7

- Top: $\boxed{12} - \boxed{5}$
- Right: $\boxed{11} - \boxed{4}$
- Bottom: $\boxed{15} - \boxed{8}$
- Left: $\boxed{16} - \boxed{9}$

(答案不唯一)

七、看图列式计算。(12分)

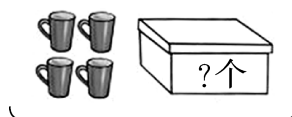
1.



13个

$$\boxed{13} - \boxed{5} = \boxed{8} \text{ (个)}$$

2.



12个

$$\boxed{12} - \boxed{4} = \boxed{8} \text{ (个)}$$


八、生活万花筒。(38分)

1. 14 个小朋友坐成一排。从左边数起,迪迪排第 5,迪迪的右边有多少个小朋友?(7分)

【答案】 $14-5=9$ (个)

答:迪迪的右边有 9 个小朋友。

2.

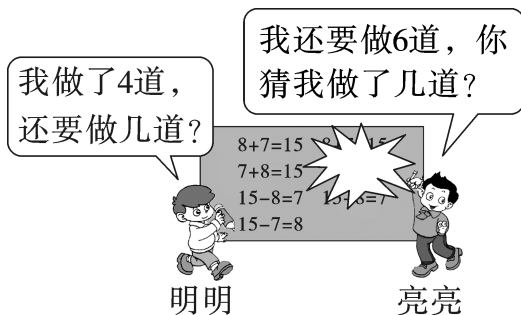


小青蛙比大青蛙少吃多少条虫子?(7分)

【答案】 $15-6=9$ (条)

答:小青蛙比大青蛙少吃 9 条虫子。

3. 每人要做 11 道口算题。(8分)



【答案】 $11-4=7$ (道) $11-6=5$ (道)



答:明明还要做 7 道,亮亮做了 5 道。

4. (7 分)



【答案】 $13-7=6$ (个)

答:小林投中了 6 个。

5.  我们两个都有 16 个苹果,我吃了 8 个。
佳佳  我还剩 7 个。 亮亮

他们谁吃的苹果多? 多几个? (9 分)

【答案】 $16-7=9$ (个) 9 个 $>$ 8 个 $9-8=1$ (个)

答:亮亮吃的苹果多,多 1 个。

附加题。(10 分)

小红和文文都有一些邮票,小红有 12 枚,给文文一些后,他们的邮票枚数相同,都是 9 枚。文文原来有多少枚邮票?

【答案】 $12-9=3$ (枚) $9-3=6$ (枚)

答:文文原来有 6 枚邮票。